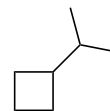
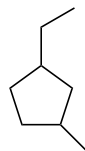
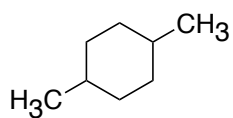


## 問題2.18

次の化合物を命名せよ



## 問題2.19

骨格構造を書け

1-tert-ブチル-2-メチルシクロペンタン

1,1-ジメチルシクロブタン

1-エチル-4-イソプロピルシクロヘキサン

3-シクロプロピルヘキサン