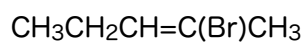
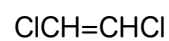
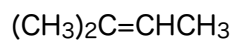
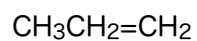


例題3.2

trans-5-クロロペンタ-2-エンおよびその立体異性体の構造を示せ

問題3.6

次の化合物の骨格構造を示せ。シス-トランス異性体のあるものは両方を示せ。



問題3.7 シス, トランスを含めて命名せよ

